


## Εργαστηριακή άσκηση 3



Απόσταξη, προσδιορισμός αλκοόλης στο κρασί

1. Πειραματικό μέρος,

2. Θεωρητικό υπόβαθρο

4. Λυμένα παραδείγματα

5. Ασκήσεις για αναφορά

# 1. Πειραματικό μέρος

Σε σφαιρική φιάλη των 100ml στην οποία τοποθετείται μαγνητάκι προστίθενται τα παρακάτω:

- 50ml κρασί με την βοήθεια του ογκομετρικής φιάλης των 50ml
- 10ml NaOH 10%w/v (εκπλένοντας πρώτα την φιάλη)
- 2 x 10ml H<sub>2</sub>O (εκπλένοντας πάλι κάθε φορά την φιάλη)

Οι εκπλύσεις γίνονται για να υπάρξει ποσοτική μεταφορά της αιθανόλης

Στην συνέχεια στήνεται η συσκευή απόσταξης ως εξής:

Σε θερμαντική πλάκα τοποθετούμε ελαιόλουτρο μέσα στο οποίο βυθίζεται η σφαιρική φιάλη των 100 ml (αφού σκουπισθεί επιμελώς εξωτερικά πριν). Κατόπιν συνδέετε η κλασματική στήλη κατόπιν το βιδωτό επίθεμα απόσταξης στο οποίο προσαρμόζεται θερμομέτρο. Στην συνέχεια τοποθετείται ψυκτήρας και το ράμφος απόσταξης και τέλος συνδέεται η δίλαιμη σφαιρική των 250 ml

Η κλασματική στήλη και το επίθεμα μονώνονται με βαμβάκι και αλουμινόχαρτο

Στην δίλαιμη σφαιρική προστίθενται 50 ml νερό και βυθίζεται σε παγόλουτρο

# 1. Πειραματικό μέρος


Μόνωση με βαμβάκι και αλουμινόχαρτο

Κλείνει η 2<sup>η</sup> είσοδος

Κλασματική στήλη

Προσθήκη 50 ml νερού

Ε<sub>2</sub>





# 1. Πειραματικό μέρος


Τοποθετείται η θέρμανση στο 4-5 και ήπια ανάδευση

Αποστάζει σχεδόν το σύνολο του υγρού και το απόσταγμα μεταφέρεται σε ογκομετρητή των 250 ml. Ξεπλένεται η δίλαιμη 2-3 φορές με νερό (3-5 ml) μεταφέροντας τις ειπλύσεις στην ογκομετρητή

Το απόσταγμα ψύχεται (περιμένουμε να έχει  $T=27-28\text{ }^{\circ}\text{C}$ ) και κατόπιν συμπληρώνεται νερό μέχρι την χαραγή

## Μέτρηση Αλκοολικών βαθμών

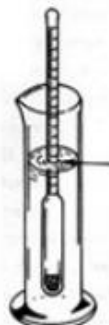
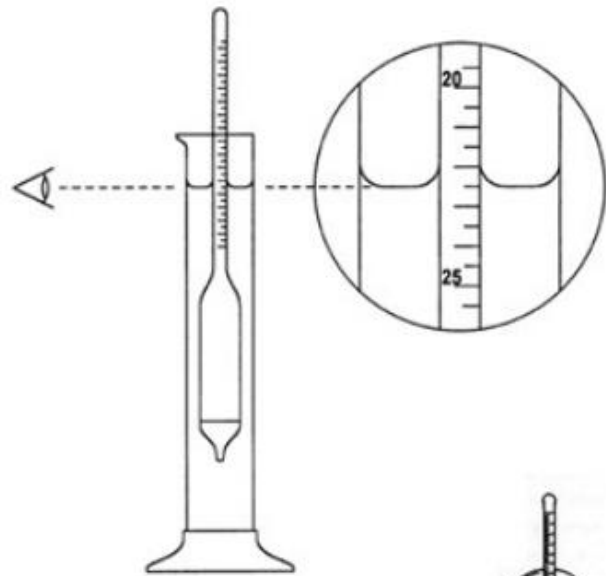
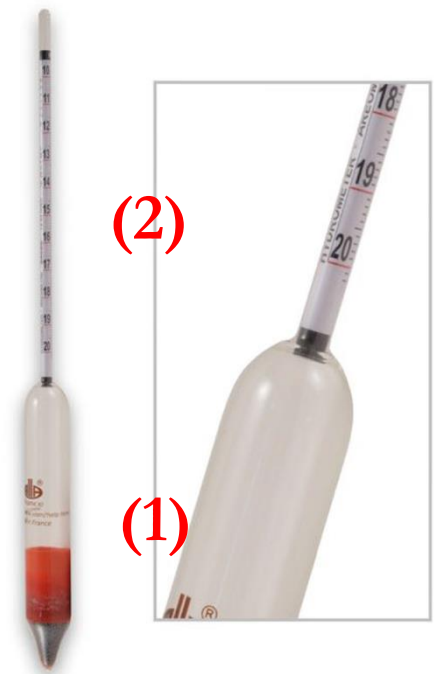
Το περιεχόμενο της ογκομετρητής μεταφέρεται σε ογκομετρικό κύλινδρο μέχρι τα 2/3 (αφού πρώτα ξεπλυθεί με μια μικρή ποσότητα). Η μεταφορά γίνεται με προσοχή ώστε να μην δημιουργηθούν πολλές φυσαλίδες



# 1. Πειραματικό μέρος

Στην συνέχεια βυθίζεται το αλκοολόμετρο και αφήνεται να ηρεμήσει επιπλέοντας στο υγρό

Το αλκοολόμετρο είναι ένα πυκνόμετρο που αποτελείται από το βαρίδι (1) και τον μετρητικό σωλήνα (2)



Αφού ισορροπήσει το αλκοολόμετρο παρατηρούμε το σημείο που η επιφάνεια του υγρού τέμνει τον μετρητικό σωλήνα. Η τιμή που αναγράφεται αποτελεί τους αλκοολικούς βαθμούς στην θερμοκρασία που βρίσκεται το απόσταγμα.

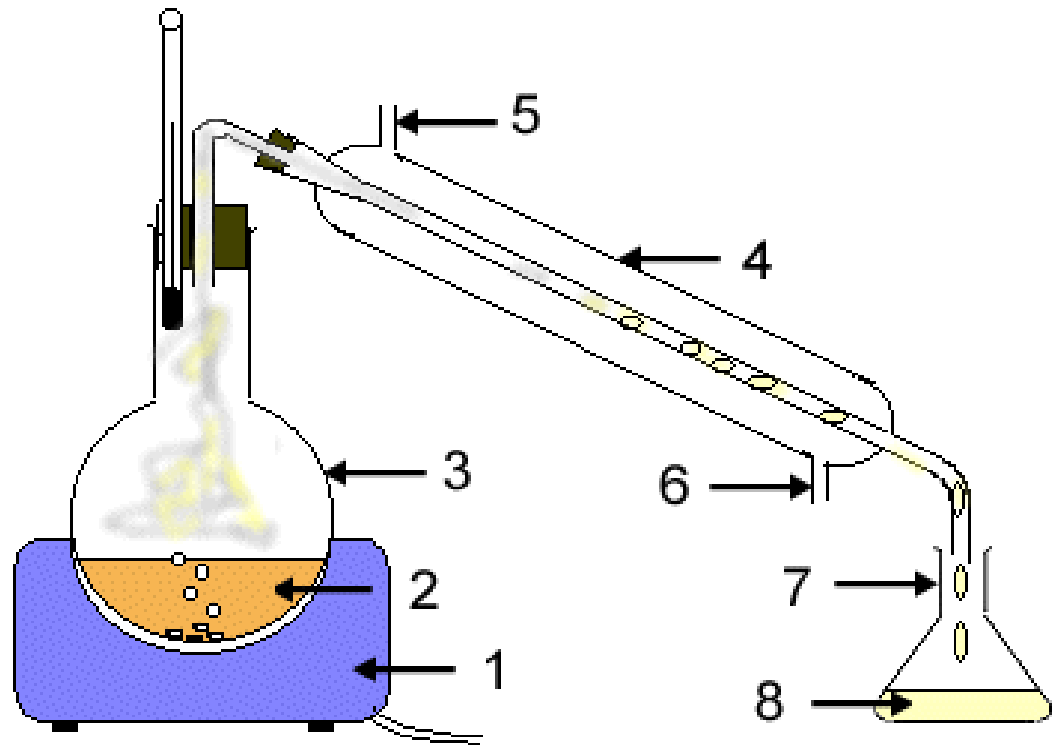
Μετρείται και η θερμοκρασία για την διόρθωση των αλκοολικών βαθμών.

Τέλος παραδίδονται σε ένα χαρτί με τα στοιχεία κάθε ομάδας οι μετρήσεις που καταγράφηκαν

## 2. Θεωρητικό μέρος

Στο προηγούμενο εργαστήριο μιλήσαμε για την τάση ατμών ενός διαλύτη, δηλ μιας ουσίας.  
Τι γίνεται όμως αν έχουμε μίγμα υγρών ουσιών;

**Απόσταξη:**  
**Μέθοδος διαχωρισμού υγρών που διαφέρουν αρκετά τα σημεία ζέσεως τους**



## Ένα υγρό μείγμα μορίων A και B

### Ιδανικό

Ένα υγρό μείγμα μορίων A και B είναι ιδανικό αν οι έλξεις A-B είναι τόσο ισχυρές όσο A-A ή B-B

### Μη Ιδανικό

Ένα υγρό μείγμα μορίων A και B είναι ΜΗ ιδανικό αν οι έλξεις A-B είναι ΠΙΟ ισχυρές ΑΠΟ A-A ή B-B



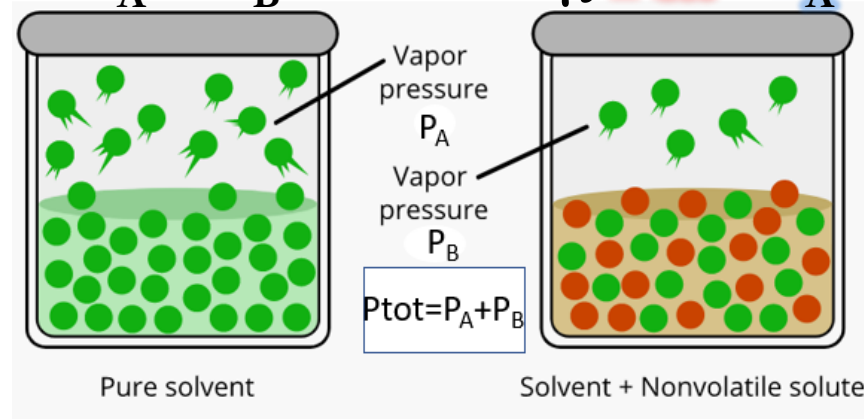
$$P_{\text{ολ}} = P_A + P_B \text{ (ΝΟΜΟΣ Dalton)}$$

Ο νόμος Dalton καθορίζει ότι η συνολική πίεση που ασκεί ένα μίγμα αερίων είναι ίση με το άθροισμα των ξεχωριστών πιέσεων που θα ασκούσε κάθε ένα από τα αέρια, εάν καταλάμβανε ολόκληρο τον όγκο μόνο του.

# $P_{\text{solution}} = x_{\text{solvent}} P_{\text{solvent}}$ (ΝΟΜΟΣ Raoult)

Η μερική πίεση  $P_A$  ενός συστατικού A (σε σταθερή θερμοκρασία) δίνεται από την σχέση  $P_A = x_A P_A^\circ$  όπου  $x_A$  είναι το γραμ. κλάσμα της ουσίας A και η  $P_A^\circ$  η τάση ατμών της σε αυτή την  $\Theta$ .

Έτσι αν έχουμε ένα μίγμα 2 συστατικών A και B ισχύουν τα παρακάτω:  
 $P_A = x_A P_A^\circ$ ,  $P_B = x_B P_B^\circ$  και αν  $n_A$  και  $n_B$  είναι αντίστοιχα τα moles των A και B τότε θα ισχύουν  $x_A = n_A / n_A + n_B$  και  $x_B = n_B / n_A + n_B$  και φυσικά  $x_A + x_B = 1$  Επίσης  $P_{\text{ολ}} = P_A + P_B$




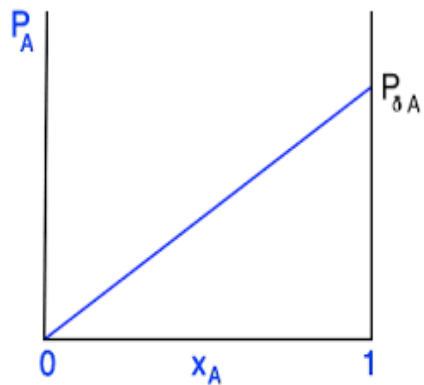
**Γραμμομοριακό κλάσμα ( $x_A$ )**, είναι το πηλίκο των mol του συστατικού A ( $n_A$ ) προς τα συνολικά mol του μίγματος ( $n_{\text{ολ}}$ ).:  $x_A = n_A / n_{\text{ολ}} = 1$ , (στην αέρια φάση ισχύει επίσης  $x_A = P_A / P_{\text{ολ}}$ )

## 2. Θεωρητικό μέρος

## Ιδανικό μείγμα μορίων A και B


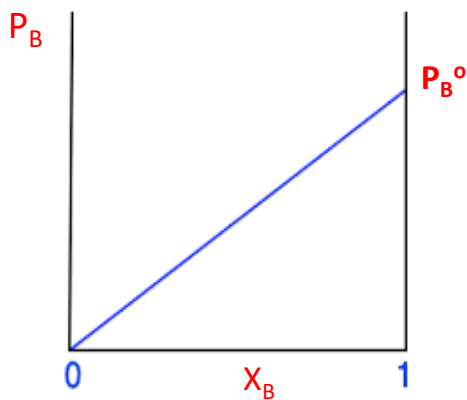
$$P_A = X_A P_A^{\circ}$$

$$X_A = 1, \Rightarrow P_A = P_A^{\circ}$$

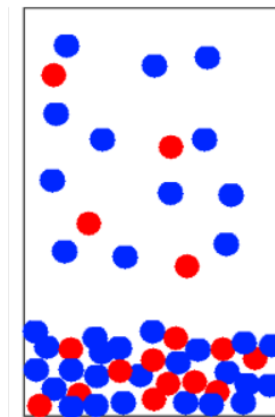
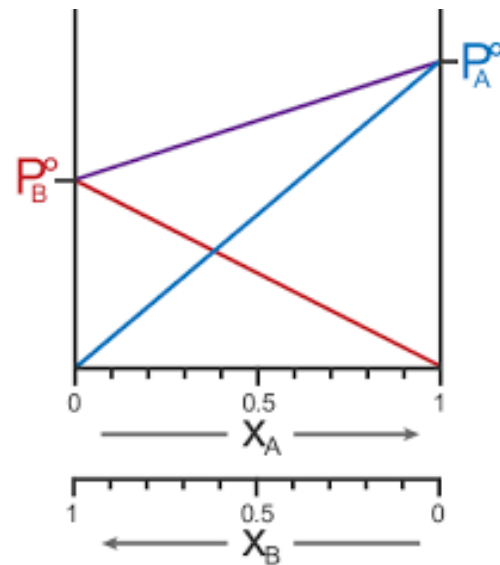


$$P_B = X_B P_B^{\circ}$$

$$X_B = 1, \Rightarrow P_B = P_B^{\circ}$$

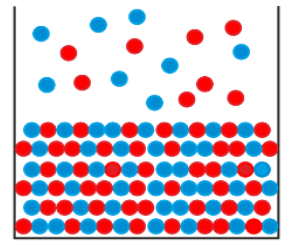
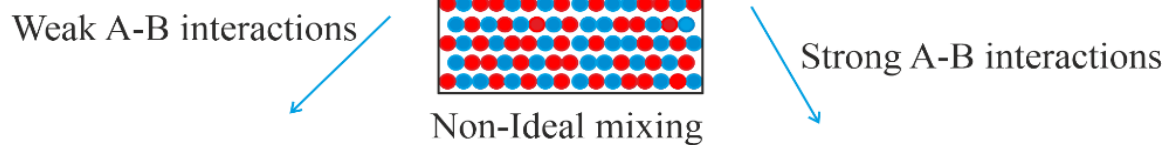


$$P_{TOT} = P_A + P_B$$

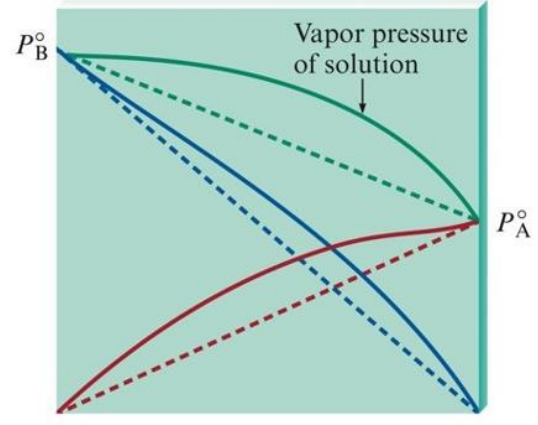


# 2. Θεωρητικό μέρος

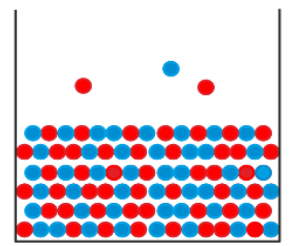
# ΜΗ Ιδανικό μείγμα μορίων Α και Β



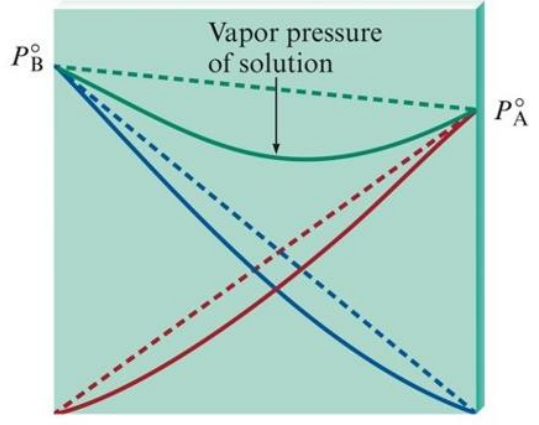
Positive deviation



Weak solute-solvent interactions



Negative deviation



Strong solute-solvent interactions

ΘΕΤΙΚΗ ΑΠΟΚΛΙΣΗ

ΔΙΑΣΠΑΣΗ ΙΣΧΥΡΩΝ ΔΙΑΜΟΡΙΑΚΩΝ ΔΕΣΜΩΝ ΣΤΗΝ ΑΝΑΜΕΙΞΗ

ΥΨΗΛΟΤΕΡΑ P°

ΕΥΚΟΛΗ ΑΠΟΣΤΑΞΗ

ΑΡΝΗΤΙΚΗ ΑΠΟΚΛΙΣΗ

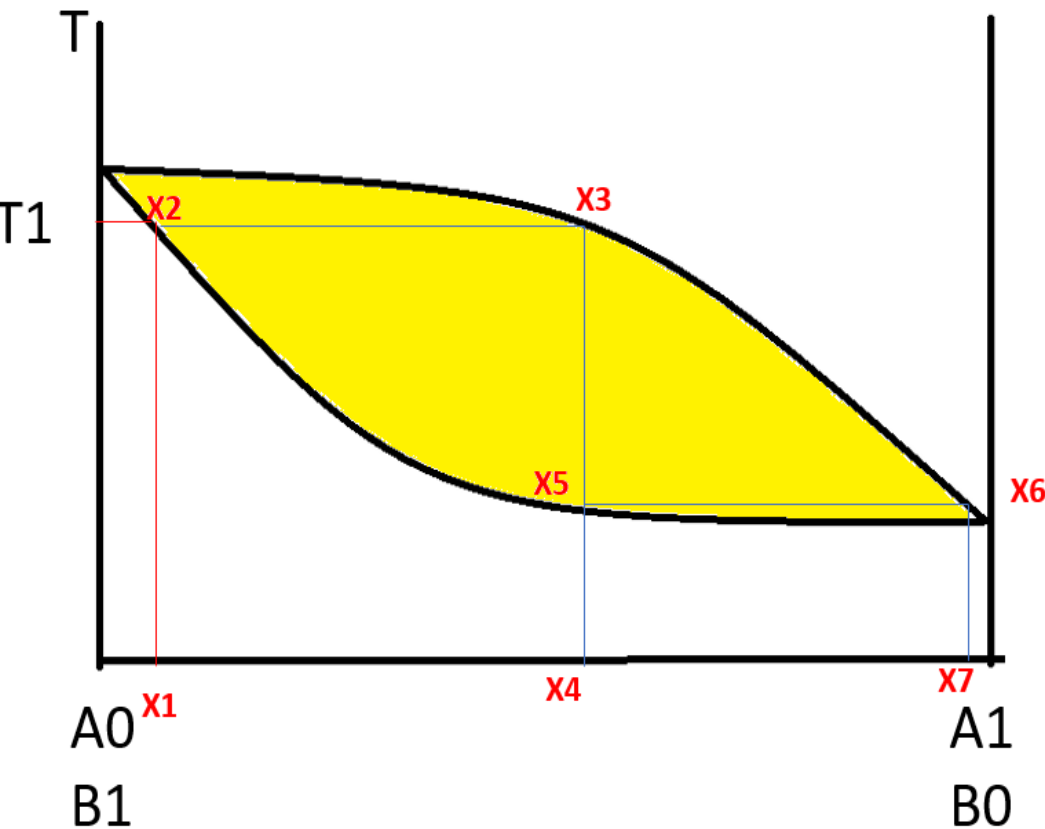
ΔΗΜΙΟΥΡΓΙΑ ΙΣΧΥΡΩΝ ΔΙΑΜΟΡΙΑΚΩΝ ΔΕΣΜΩΝ ΣΤΗΝ ΑΝΑΜΕΙΞΗ

ΧΑΜΗΛΟΤΕΡΗ P°

ΔΥΣΚΟΛΗ ΑΠΟΣΤΑΞΗ

## 2. Θεωρητικό μέρος

Πως κατά την απόσταξη επιτυγχάνεται ο διαχωρισμός των 2 ουσιών;



Διάγραμμα κατανομών mole με βάση την  $T$  (σταθερή  $P$ )

$X_1$ : Αρχικά έχουμε ένα υγρό μίγμα σε συγκεκριμένη αναλογία

$X_2$  Στην  $T_1$  βράζει το μίγμα

$X_3$ : είναι η σύσταση των ατμών για αυτή την θερμοκρασία που είναι εμπλουτισμένοι στο πιο πτητικό

$X_4$ : Αν ψύξουμε το υγρό που θα σχηματισθεί θα έχει την σύσταση του ατμού στο  $X_3$

$X_5$ : Ξαναθερμαίνουμε βράζει πλέον σε χαμηλότερη θερμοκρασία

$X_6$ : Ατμοί πιο εμπλουτισμένοι στο περισσότερο πτητικό

$X_7$ : Με ψύξη παίρνουμε τελικά ακόμα πιο πλούσιο στο πτητικό συστατικό μίγμα



## 2. Θεωρητικό μέρος

Η αιθανόλη στον οίνο προέρχεται από την αλκοολική ζύμωση των σακχάρων του σταφυλιού και αποτελεί το 7-16% του όγκου του

Είναι σημαντική στην:

Διαμόρφωση των οργανοληπτικών χαρακτηριστικών του οίνου

Αντοχή του στις βακτηριακές προσβολές

Αξιολόγηση του από εμπορικής, αγορανομικής και φορολογικής πλευράς

Απόσταξη για προσδιορισμό αιθανόλης κάνουμε πρώτα στον μούστο που έχει αρχίσει να ζυμώνεται και φυσικά στο τέλος.

Η μέτρηση γίνεται με πυκνόμετρο που ονομάζεται και αλκοολόμετρο, όπως είδαμε στο πειραματικό μέρος



## 2. Θεωρητικό μέρος

Η μέτρηση με το πυκνόμετρο μπορεί να γίνει μόνο μετά την απόσταξη γιατί πριν στο υγρό μίγμα υπάρχουν και άλλα συστατικά εκτός νερού και αλκοόλης με αποτέλεσμα να υπάρχει επίδραση στην μέτρηση

Για την εξουδετέρωση της οξύτητας του οίνου (για την αποφυγή της εξάτμισης των πτητικών οξέων όπως οξεικό και θειώδες) στο απόσταγμα έγινε η προσθήκη του διαλύματος  $\text{NaOH}$ .

Συνήθως σε πραγματικό κρασί προστίθεται 10-12 ml «γάλα ασβέστου» δλδ  $\text{Ca(OH)}_2$  10% w/v

Το αλκοολόμετρο είναι ρυθμισμένο να μετράει πυκνότητα μίγματος αιθανόλης-νερού και συνήθως είναι βαθμονομημένο στους  $20^\circ\text{C}$   
 $d_{\text{αιθ}}=0,79$  και  $d_{\text{H}_2\text{O}} = 0,997$

Έτσι σε ένα μίγμα όταν αυτό παρουσιάσει μικρή πυκνότητα (δλδ όσο βυθιστεί το πυκνόμετρο περισσότερο) τόσο αυτό σημαίνει ότι περιέχει περισσότερη αλκοόλη

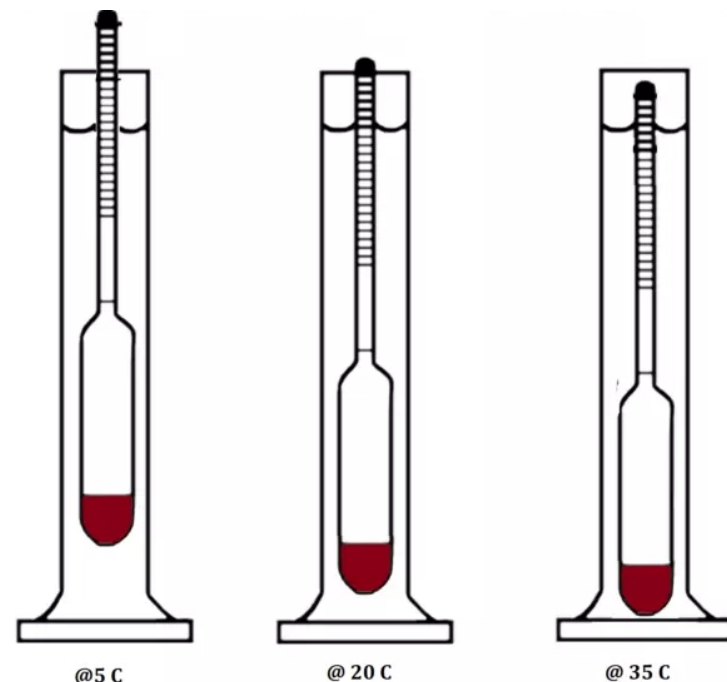
Αν πχ το μίγμα έχει την  $d=0,79 \implies 100$  αλκοολικοί βαθμοί

Αν έχει  $d=0,997 \implies 0$  αλκοολικοί βαθμοί

## 2. Θεωρητικό μέρος

### Πως επηρεάζει η θερμοκρασία την μέτρηση του αλκοολόμετρου

Όσο η θερμοκρασία αυξάνεται ο όγκος του μίγματος αυξάνεται με αποτέλεσμα να μειώνεται η  $d$  του και κατά συνέπεια το αλκοολόμετρο να βυθίζεται περισσότερο και να μας δείχνει διαφορετική τιμή



Το αλκοολόμετρο είναι βαθμονομημένο στους  $20^{\circ}\text{C}$ , με βάση το παραπάνω αν κάνουμε την μέτρηση σε  $T > 20^{\circ}\text{C} \implies$  αυξάνεται ο όγκος  $\implies$  μειώνεται η πυκνότητα  $\implies$  άρα το αλκοολόμετρο θα βυθιστεί και θα μας δείξει παραπάνω αλκοολικούς βαθμούς **ΑΡΑ πρέπει να ΔΙΟΡΘΩΣΟΥΜΕ ΑΦΑΙΡΩΝΤΑΣ**

Αν όμως κάνουμε την μέτρηση σε  $T < 20^{\circ}\text{C} \implies$  μειώνεται ο όγκος  $\implies$  αυξάνεται η πυκνότητα  $\implies$  άρα το αλκοολόμετρο θα βυθιστεί λιγότερο και θα μας δείξει λιγότερους αλκοολικούς βαθμούς **ΑΡΑ πρέπει να ΔΙΟΡΘΩΣΟΥΜΕ ΠΡΟΣΘΕΤΩΝΤΑΣ**



### 3. Λυμένα παραδείγματα

Ερ. Μετράμε 15  
αλκοολικούς βαθμούς σε i)  
 $T=25$  και ii)  $T = 14$

Βρείτε τους πραγματικούς  
αλκοολικούς βαθμούς

i) Η  $T > 20^{\circ}\text{C}$  άρα  
αφαιρούμε. Από τον  
πίνακα δίπλα πάμε στην  
στήλη που λέει 15 και

στην γραμμή που λέει 25 αυτές τέμνονται στο 1,24.

Επομένως αφαιρούμε από το 15 το 1,24. Πραγματικοί  
αλκοολικοί βαθμοί 13,76

ii) Η  $T < 20^{\circ}\text{C}$  άρα προσθέτουμε. Από τον πίνακα πάμε  
στην στήλη 15 και την γραμμή 14, αυτές τέμνονται τώρα  
στο 1,39. Επομένως προσθέτουμε 1,39 στο 15.

Πραγματικοί αλκοολικοί βαθμοί 16,39

|          |    | ΕΝΔΕΙΞΕΙΣ ΑΛΚΟΟΛΟΜΕΤΡΟΥ |      |      |      |      |      |      |      |      |      |    |
|----------|----|-------------------------|------|------|------|------|------|------|------|------|------|----|
|          |    | °C                      | 10   | 11   | 12   | 13   | 14   | 15   | 16   | 17   | 18   | 19 |
| ΠΡΟΣΘΕΣΗ | 10 | 1,44                    | 1,58 | 1,73 | 1,89 | 2,06 | 2,24 | 2,43 | 2,63 | 2,84 | 3,01 |    |
|          | 11 | 1,34                    | 1,46 | 1,59 | 1,73 | 1,88 | 2,04 | 2,21 | 2,38 | 2,56 | 2,71 |    |
|          | 12 | 1,23                    | 1,32 | 1,43 | 1,55 | 1,68 | 1,82 | 1,97 | 2,13 | 2,27 | 2,40 |    |
|          | 13 | 1,10                    | 1,18 | 1,28 | 1,38 | 1,48 | 1,60 | 1,72 | 1,85 | 1,99 | 2,11 |    |
|          | 14 | 0,96                    | 1,03 | 1,11 | 1,19 | 1,28 | 1,39 | 1,49 | 1,59 | 1,71 | 1,81 |    |
|          | 15 | 0,82                    | 0,87 | 0,94 | 1,01 | 1,09 | 1,17 | 1,26 | 1,34 | 1,44 | 1,51 |    |
|          | 16 | 0,66                    | 0,71 | 0,76 | 0,82 | 0,88 | 0,94 | 1,01 | 1,08 | 1,15 | 1,20 |    |
|          | 17 | 0,51                    | 0,55 | 0,58 | 0,63 | 0,67 | 0,71 | 0,76 | 0,81 | 0,85 | 0,90 |    |
|          | 18 | 0,34                    | 0,36 | 0,39 | 0,42 | 0,45 | 0,47 | 0,50 | 0,53 | 0,56 | 0,60 |    |
|          | 19 | 0,17                    | 0,18 | 0,20 | 0,21 | 0,23 | 0,24 | 0,26 | 0,28 | 0,29 | 0,30 |    |
|          | 20 |                         |      |      |      |      |      |      |      |      |      |    |
| ΑΦΑΙΡΕΣΗ | 21 | 0,18                    | 0,19 | 0,20 | 0,21 | 0,23 | 0,24 | 0,26 | 0,28 | 0,30 | 0,31 |    |
|          | 22 | 0,37                    | 0,40 | 0,42 | 0,44 | 0,46 | 0,48 | 0,51 | 0,54 | 0,57 | 0,60 |    |
|          | 23 | 0,56                    | 0,60 | 0,63 | 0,67 | 0,71 | 0,74 | 0,78 | 0,82 | 0,86 | 0,90 |    |
|          | 24 | 0,77                    | 0,81 | 0,85 | 0,89 | 0,94 | 0,99 | 1,04 | 1,09 | 1,14 | 1,21 |    |
|          | 25 | 0,98                    | 1,02 | 1,07 | 1,12 | 1,18 | 1,24 | 1,32 | 1,38 | 1,44 | 1,51 |    |
|          | 26 | 1,19                    | 1,24 | 1,30 | 1,36 | 1,43 | 1,51 | 1,57 | 1,65 | 1,73 | 1,82 |    |
|          | 27 | 1,40                    | 1,46 | 1,53 | 1,60 | 1,68 | 1,76 | 1,85 | 1,93 | 2,02 | 2,12 |    |
|          | 28 | 1,62                    | 1,68 | 1,75 | 1,83 | 1,92 | 2,02 | 2,11 | 2,21 | 2,31 | 2,43 |    |
|          | 29 | 1,85                    | 1,92 | 2,00 | 2,08 | 2,17 | 2,28 | 2,39 | 2,50 | 2,62 | 2,73 |    |
|          | 30 | 2,07                    | 2,15 | 2,23 | 2,33 | 2,45 | 2,55 | 2,67 | 2,79 | 2,91 | 3,04 |    |

Can you answer?



### 3. Λυμένα παραδείγματα

Ερ. Μετράμε 14,2  
αλκοολικούς βαθμούς σε  
 $T=23^{\circ}\text{C}$ . Βρείτε τους  
πραγματικούς  
αλκοολικούς βαθμούς  
Η  $T > 20^{\circ}\text{C}$  άρα  
αφαιρούμε. Από τον  
πίνακα δίπλα πάμε στις  
στήλες 14 κ 15 και

|          |    | ΕΝΔΕΙΞΕΙΣ ΑΛΚΟΟΛΟΜΕΤΡΟΥ |      |      |      |      |      |      |      |      |      |    |
|----------|----|-------------------------|------|------|------|------|------|------|------|------|------|----|
|          |    | $^{\circ}\text{C}$      | 10   | 11   | 12   | 13   | 14   | 15   | 16   | 17   | 18   | 19 |
| ΠΡΟΣΘΕΣΗ | 10 | 1,44                    | 1,58 | 1,73 | 1,89 | 2,06 | 2,24 | 2,43 | 2,63 | 2,84 | 3,01 |    |
|          | 11 | 1,34                    | 1,46 | 1,59 | 1,73 | 1,88 | 2,04 | 2,21 | 2,38 | 2,56 | 2,71 |    |
|          | 12 | 1,23                    | 1,32 | 1,43 | 1,55 | 1,68 | 1,82 | 1,97 | 2,13 | 2,27 | 2,40 |    |
|          | 13 | 1,10                    | 1,18 | 1,28 | 1,38 | 1,48 | 1,60 | 1,72 | 1,85 | 1,99 | 2,11 |    |
|          | 14 | 0,96                    | 1,03 | 1,11 | 1,19 | 1,28 | 1,39 | 1,49 | 1,59 | 1,71 | 1,81 |    |
|          | 15 | 0,82                    | 0,87 | 0,94 | 1,01 | 1,09 | 1,17 | 1,26 | 1,34 | 1,44 | 1,51 |    |
|          | 16 | 0,66                    | 0,71 | 0,76 | 0,82 | 0,88 | 0,94 | 1,01 | 1,08 | 1,15 | 1,20 |    |
|          | 17 | 0,51                    | 0,55 | 0,58 | 0,63 | 0,67 | 0,71 | 0,76 | 0,81 | 0,85 | 0,90 |    |
|          | 18 | 0,34                    | 0,36 | 0,39 | 0,42 | 0,45 | 0,47 | 0,50 | 0,53 | 0,56 | 0,60 |    |
|          | 19 | 0,17                    | 0,18 | 0,20 | 0,21 | 0,23 | 0,24 | 0,26 | 0,28 | 0,29 | 0,30 |    |
|          | 20 |                         |      |      |      |      |      |      |      |      |      |    |
| ΑΦΑΙΡΕΣΗ | 21 | 0,18                    | 0,19 | 0,20 | 0,21 | 0,23 | 0,24 | 0,26 | 0,28 | 0,30 | 0,31 |    |
|          | 22 | 0,37                    | 0,40 | 0,42 | 0,44 | 0,46 | 0,48 | 0,51 | 0,54 | 0,57 | 0,60 |    |
|          | 23 | 0,56                    | 0,60 | 0,63 | 0,67 | 0,71 | 0,74 | 0,78 | 0,82 | 0,86 | 0,90 |    |
|          | 24 | 0,77                    | 0,81 | 0,85 | 0,89 | 0,94 | 0,99 | 1,04 | 1,09 | 1,14 | 1,21 |    |
|          | 25 | 0,98                    | 1,02 | 1,07 | 1,12 | 1,18 | 1,24 | 1,32 | 1,38 | 1,44 | 1,51 |    |
|          | 26 | 1,19                    | 1,24 | 1,30 | 1,36 | 1,43 | 1,51 | 1,57 | 1,65 | 1,73 | 1,82 |    |
|          | 27 | 1,40                    | 1,46 | 1,53 | 1,60 | 1,68 | 1,76 | 1,85 | 1,93 | 2,02 | 2,12 |    |
|          | 28 | 1,62                    | 1,68 | 1,75 | 1,83 | 1,92 | 2,02 | 2,11 | 2,21 | 2,31 | 2,43 |    |
|          | 29 | 1,85                    | 1,92 | 2,00 | 2,08 | 2,17 | 2,28 | 2,39 | 2,50 | 2,62 | 2,73 |    |
|          | 30 | 2,07                    | 2,15 | 2,23 | 2,33 | 2,45 | 2,55 | 2,67 | 2,79 | 2,91 | 3,04 |    |

στην γραμμή που λέει 23.

Αν ήταν 14 θα αφαιρούσαμε 0,71. Αν ήταν 15 θα αφαιρούσαμε 0,74  
Άρα η διαφορά σε 1 vol είναι 0,03

$$\text{Σε } 0,2 \text{ vol είναι } x \implies x=0,006$$

Αυτό προστίθεται στο 0,71  $\implies$  Διόρθωση 0,716

Πραγματικοί αλκ. Βαθμοί  $14,2 - 0,716 = 13,484$

$$\Delta = 0,71 * 80 / 100 + 0,74 * 20 / 100 = 0,716$$

Can you answer?





### 3. Λυμένα παραδείγματα

Άσκηση  $P_{H_2O}^{\circ} 40^{\circ}C = 55 \text{ mmHg}$   $P_{αιθ}^{\circ} 43^{\circ}C = 200 \text{ mmHg}$   
Αν  $P_{οζ}$  μίχτης αθαιθης-νερού στα  $43^{\circ}C$  είναι  $160 \text{ mmHg}$   
Να βρεθούν τα γραμμωμοριακά υδαιθματα στην υφή και την  
αίρια φάση

ΛΥΣΗ  $P_{οζ} = P_{H_2O} + P_{αιθ}$   $P_{H_2O} = X_{H_2O} \cdot P_{H_2O}^{\circ}$ ,  $P_{αιθ} = X_{αιθ} \cdot P_{αιθ}^{\circ}$

αφ' ου  $P_{οζ} = X_{H_2O} \cdot P_{H_2O}^{\circ} + X_{αιθ} \cdot P_{αιθ}^{\circ} \Rightarrow 160 = X_{H_2O} \cdot 55 + X_{αιθ} \cdot 200$

$1 = X_{H_2O} + X_{αιθ} \quad (\times 200)$

$- 200 = X_{H_2O} \cdot 200 + X_{αιθ} \cdot 200$

$40 = 145 X_{H_2O} \Rightarrow$

$\Rightarrow X_{H_2O} = 0,276 \Rightarrow$

$X_{αιθ} = 0,724$

αφ' ου  $P_{H_2O} = 0,276 \cdot 55 = 15,18$

$P_{αιθ} = 0,724 \cdot 200 = 144,8$

αφ' ου στην αίρια φάση

$Y_{H_2O} = \frac{15,18}{160} = 0,095$

$Y_{αιθ} = \frac{144,8}{160} = 0,905$

Can you answer?



### 3. Λυμένα παραδείγματα

Άσκηση Βενζόλιο και τοουόλιο αληατίλων ίσανυά στα  
σταυ 60°C  $P_B^0 = 0,507 \text{ Atm}$  και τω  $P_T^0 = 0,184 \text{ Atm}$ .  
Ποια είναι η τάση ατμών σταυ 60°C ανω σταυ ανω  
ληρήχη 6,5 pr B και 23,0 pr T.

ΛΥΣΗ

$$n_B = \frac{6,5}{78} = 0,083$$

$$n_T = \frac{23}{92} = 0,250$$

$$n_{\text{ολ}} = n_B + n_T = 0,333$$

$$\text{αρα } X_B = \frac{0,083}{0,333} = 0,25 \quad \text{αρα } X_T = 0,75$$

$$P_B = X_B \cdot P_B^0 = 0,25 \cdot 0,507 = 0,127 \quad P_T = X_T \cdot P_T^0 = 0,75 \cdot 0,184 = 0,138$$

$$\text{αρα } P_{\text{ολ}} = P_B + P_T = 0,127 + 0,138 = 0,265$$

$$Y_B = \frac{P_B}{P_{\text{ολ}}} = \frac{0,127}{0,265} = \underline{0,48}$$

$$Y_T = \frac{P_T}{P_{\text{ολ}}} = \frac{0,138}{0,265} = \underline{0,52}$$

Can you answer?



## 5. Ασκήσεις για αναφορά

Για όλους

1. Αλκοολόμετρο βαθμονομημένο στους 20°C μετράει σε απόσταγμα 12,2 αλκολικούς βαθμούς σε θερμοκρασία 27°C

Προσδιορίστε τους σωστούς αλκολικούς βαθμούς

2. Διαθέτουμε αιθυλενοχλωρίδιο ( $\alpha$ ) και βενζόλιο ( $\beta$ ) στους 50°C έχουν  $P^\circ_\alpha=236$  mmHg και  $P^\circ_\beta=268$  mmHg.

Βρείτε στην ίδια θερμοκρασία 1. την ολική πίεση, 2. Την σύσταση των ατμών που είναι σε ισορροπία με υγρά μίγματα όπου το  $X_\beta$  είναι ίσο i) με 0,25 και ii) με 0,5